



RESPUBLİKA FƏNN
OLİMPİADALARI

Ad _____ Soyad _____

8-9

COĞRAFIYA

AŞAĞI YAŞ QRUPU

RUS BÖLMƏSİ

- İmtahan müddəti 180 dəqiqədir.
- Hər səhv cavab öz dəyərinin 1/4 - ni aparır.
- 1-10-cu suallar 3, 11-20-ci suallar 4, 21-30-cu suallar 5 balla qiymətləndirilir.
- Nəzarətçilərə cavab kağızları və buraxılış vərəqələri təqdim olunur.
- Sual kitabçasında hər hansı texniki qüsurlar aşkarlandığı və kitabçanın şagirdin məlumatlarına uyğun olmadığı halda (fənn, bölmə, sinif) imtahandan əvvəl mütləq otaq nəzarətçisinə bildirilməlidir.
- Yarımfinal turunun nəticələrini 04.03.2025-ci il tarixindən etibarən portal.edu.az platformasında şəxsi kabinetinizdən və təhsil aldığımız ümumtəhsil müəssisəsindən öyrənmə bilərsiniz.

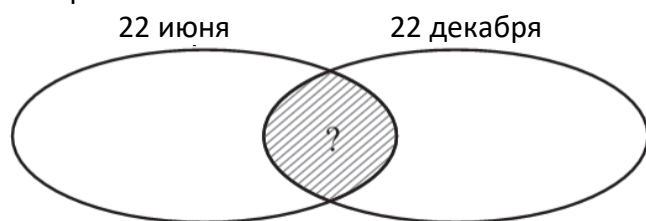
Uğurlar!

1. На основе таблицы определите **несоответствие**.

1	На географической широте, где наименьшая разница между максимальным и минимальным углами падения солнечных лучей в полдень, встречается только один климатический пояс.	<i>верно</i>
2.	В Месопотамской низменности разница между испарением и испаряемостью намного больше, чем на Ла-Платской низменности.	<i>неверно</i>
3	Крайняя северная точка материка Южная Америка находится южнее крайней южной точки материка Евразия.	<i>неверно</i>
4.	Реки Янцзы и Хуанхэ впадают в Восточно-Китайское море.	<i>неверно</i>
5	На континенте Азии встречаются как потухшие, так и действующие вулканы.	<i>верно</i>
6	Остров Калимантан считается территорией только двух стран.	<i>верно</i>

- A) 1, 3, 6 B) 2, 4, 5
 C) 1, 2, 6 D) 1, 3, 4
 E) 2, 3, 5

2. Определите пункт, дополняющий диаграмму Эйлера-Венна.



1. На линии экватора угол падения солнечных лучей в полдень бывает минимальным.
2. На материке Евразия Солнце находится в зените.
3. На материке Южная Америка Солнце находится в зените.
4. В городе Анкара в полдень Солнце видно с южной стороны горизонта.

5. В некоторых пунктах не наблюдается зимний сезон.

6. В Южном полушарии количество поглощенной радиации уменьшается.

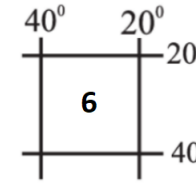
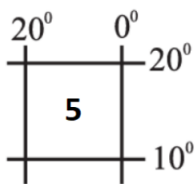
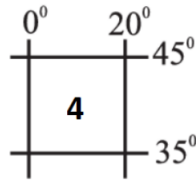
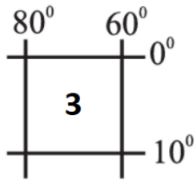
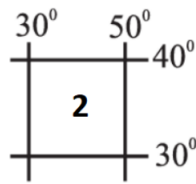
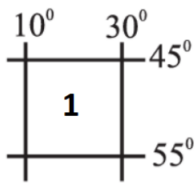
- A) 1, 2, 6 B) 1, 4, 5
 C) 3, 5, 6 D) 1, 4, 6
 E) 2, 3, 5

3. Определите верные утверждения.

1. Горы Загрос находятся на границе нескольких стран.
2. Горы Альпы расположены на территории Франции, Италии, Германии и Швейцарии.
3. Как на платформах, так и на геосинклинальных территориях встречаются рудные, нерудные и горючие полезные ископаемые.
4. Вулкан Апо расположен на острове Лусон.
5. В результате деятельности экзогенных процессов могут образоваться грабены и горсты.
6. Таврские горы расположены на северной стороне, а Понтийские горы — на южной стороне Анатолийского плоскогорья.

- A) 2, 3, 4 B) 1, 3, 6
 C) 2, 4, 5 D) 4, 5, 6
 E) 1, 2, 3

4. На основе географических координат определите соответствие в таблице.



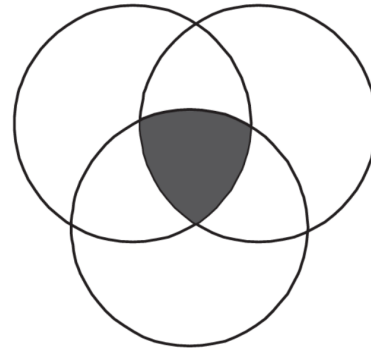
1	Длины теней от объектов не равны нулю и находятся в океане.	<i>неверно</i>
2	Соответствует территории Аральского моря.	<i>неверно</i>
3	Соответствует территории федеративной страны.	<i>верно</i>
4	Соответствует Средиземному морю.	<i>неверно</i>
5	Соответствует Атлантическому океану.	<i>верно</i>
6	Находится в XX часовом поясе	<i>верно</i>

- A) 4, 5, 6
C) 2, 3, 6
E) 2, 3, 5

- B) 1, 4, 6
D) 1, 2, 5

5. На основе диаграммы Эйлера-Венна установите соответствие.

Материк Африка Материк Южная Америка



Материк Северная Америка

1. Имеются как пониженные, так и повышенные пояса давления.
2. Находится в трех поясах освещенности.
3. Возможно видеть Полярную звезду.
4. Имеются горы, образовавшиеся в мезозойскую складчатость.
5. Расположен на границах литосферных плит.
6. Встречается природная зона степей и лесостепей.

- A) 1, 3, 5 B) 2, 4, 6
C) 1, 2, 4 D) 3, 5, 6
E) 1, 2, 5

6. Определите **неверные** утверждения:

1. Природная зона жестколистных лесов и кустарников встречается только в умеренном поясе освещенности.
2. На острове Сахалин и Камчатском полуострове распространена природная зона хвойных лесов.
3. Водопад Анхель и озеро Марикайбо расположены на территории одной и той же страны.
4. Водосборный бассейн реки Амур находится в зоне альпийской складчатости.
5. Полуостров Малакка и Корейский расположены на геосинклинале.
6. Острова Новой Зеландии находятся на дивергентной границе литосферных плит.

- A) 1, 5, 6 B) 1, 2, 3
C) 3, 4, 5 D) 4, 5, 6
E) 2, 4, 6

14. На основе таблицы определите соответствие.

I Аргентина	II Казахстан
<p>a. Имеет федеративное административно-территориальное устройство.</p> <p>b. Граничит с Перу и Боливией.</p> <p>c. Имеет благоприятные природные условия для возделывания зерновых культур.</p> <p>d. На территории имеется параллель, где Солнце бывает в зените один раз в году.</p>	<p>a. У трех из пограничных стран нет прямого выхода в Мировой океан.</p> <p>b. На территории находятся озёра Балхаш и Зайсан.</p> <p>c. Некоторые реки, протекающие по территории, относятся к водосборному бассейну Северного Ледовитого океана.</p> <p>d. Граничит только с двумя тюркскими государствами.</p>

- A) I-с, d; II-а, b, e;
- B) I-а, b, с, d; II-а, b, с, d;
- C) I-а, с, d; II-а, b, с;
- D) I-а, b, d; II-а, b, с;
- E) I-с, d, b; II-а, b, d;

15. Определите сходство пассатов с указанными в схеме ветрами.

I Западные	II Полярные	III Муссоны
<p>a. Двигутся из области тропического повышенного давления.</p> <p>b. В Северном полушарии отклоняется вправо, в южном полушарии — влево.</p> <p>c. Дуют только в двух океанах.</p>	<p>a. В Северном полушарии дуют с северо-востока.</p> <p>b. На территориях, где дуют, четыре сезона года не наблюдается четко.</p> <p>c. Являются причиной возникновения океанических течений.</p>	<p>a. Дуют на материках Евразия и Северная Америка.</p> <p>b. В летние месяцы приносят больше влажности над морем.</p> <p>c. Дуют в одном направлении в течение года.</p>

- A) I-а, b, с; II-б, с; III-б, с;
- B) I-а, b; II-а, b, с; III-а, b;
- C) I-а, с; II-а, с; III-а, с;
- D) I-б, с; II-а, b, с; III-б, с;
- E) I-а, b; II-б, с; III-а, с;

16. На основании таблицы определите верные ряды (“+” относится, “-” не относится).

№	Особенности	Кавказ	Памир	Скандинавские
1	Складчатые горы	+	+	-
2	Расположены на территории нескольких стран.	+	+	-
3	Реки, протекающие по территории, относятся к бассейну двух океанов	-	-	+
4	Лесной ландшафт образует пояс.	+	+	-
5	Подвергаются влиянию Западных ветров	+	+	+
6	Не встречаются действующие вулканы.	+	-	+

- A) 2, 3, 5
C) 1, 4, 5
E) 1, 3, 5

- B) 2, 3, 6
D) 2, 4, 6

17. На основании таблицы определите верные ряды.

Атлантический океан	Тихий океан
1. Имеются замерзающие моря.	4. Омывает берега как развитых, так и развивающихся стран
2. Считается самым соленым океаном из-за средней солености	5. Расположено устье самой длинной реки, омывающее берега двух материков
3. Находится в IV часовом поясе	6. Площадь бесперерывно увеличивается.

- A) 1, 2, 4
C) 2, 4, 6
E) 3, 5, 6

- B) 1, 3, 5
D) 1, 2, 3

18. Определите верные утверждения о пункте, в который прибыл исследователь, прошедший вначале 7215 км по азимуту 0°, затем, двигаясь по азимуту 180° по противоположному меридиану, преодолел 4995 км и достиг пункта, где Полярная Звезда (Polaris) видна под углом 25° и пересечением 70° восточной долготы.

1. Берега материка, на котором находится, омывают три океана.
2. Для страны, в которой находится, характерен II тип естественного прироста населения.
3. Минимальный угол падения солнечных лучей в полдень составляет 21,5°.
4. Расположен срединный меридиан XIV часового пояса.
5. Расположен в субарктическом климатическом поясе.
6. Кратчайшее расстояние до 180° меридиана меньше, чем до 0° меридиана.

- A) 2, 4, 5
C) 3, 5, 6
E) 2, 4, 6

- B) 1, 3, 6
D) 1, 2, 3

19. Определите соответствие.

I Большой Кавказ

II. Малый Кавказ

- a. Расположен хребет Ниялдаг
- b. Имеются месторождения железной руды.
- c. Расположен хребет Ходжашен.
- d. Расположена вершина Туфандаг.
- e. Некоторые реки относятся к бассейну реки Араз.

A) I-a, b; II-d, c, e;

B) I-b, d; II-c, e;

C) I-a, d; II-b, e;

D) I-a, d; II-b, c, e;

E) II-c, d; II-a, b;

20. На основе таблицы выберите соответствующий ряд.

Развитые страны	Развивающиеся страны
1. На континенте Южной Америки нет страны, относящейся к этой группе.	4. Все страны Африки относятся к этой группе.
2. Все страны, расположенные на континенте Европы, относятся к этой группе.	5. Большинство относятся ко II и III этапу демографического перехода.
3. Большинство стран расположено в субтропическом и умеренном климатических поясах.	6. В эту группу не входит ни одна страна, являющейся членами организации БРИКС (BRICS).

A) 2, 3, 6

B) 2, 4, 6

C) 1, 4, 5

D) 1, 4, 6

E) 1, 3, 5

21. Определите верные утверждения.

- 1. На материке Австралия встречается природная зона переменного влажных (в том числе муссонных) лесов.
- 2. Приливы и отливы происходят только в окраинных морях.
- 3. Реки, протекающие через территорию Республики Колумбия, относятся к бассейнам двух океанов.
- 4. На западных побережьях материков проходят только холодные океанические течения.
- 5. Из-за влияния тёплых океанических течений Чукотское и Баренцево моря в Северном Ледовитом океане не замерзают.
- 6. В Северном полушарии площадь суши меньше площади водной поверхности.

A) 1, 4, 6

B) 2, 4, 6

C) 1, 3, 5

D) 1, 3, 6

E) 2, 3, 5

22. Определите верные утверждения, характерные для Филиппинского архипелага:

- 1. Крупнейшими островами являются Лусон и Минданао.
- 2. Расположен в двух климатических поясах.
- 3. Территория страны с унитарным административно-территориальным устройством.
- 4. Расположен к северо-востоку от нашей страны.
- 5. Крупнейший остров пересекается линией Северного тропика.
- 6. Побережья омываются водами двух океанов.

A) 1, 3, 5

B) 2, 4, 6

C) 4, 5, 6

D) 1, 2, 3

E) 2, 3, 5

23. Определите верные утверждения.

	Страны	Особенности
1	Франция	Расположена на побережье Адриатического моря.
2	Италия	Имеются действующие вулканы.
3	Мексика	В течении года Солнце находится в зените.
4	ЮАР (Южно-Африканская Республика)	Встречаются складчатые горы.
5	Пакистан	Расположено устье реки Инд.
6	Новая Зеландия	Относится к группе развивающихся стран.

- А) 1, 3, 6 В) 2, 4, 5
 С) 3, 4, 5 D) 1, 2, 6
 Е) 2, 3, 5

24. Определите **неверные** утверждения.

	Города	Особенности
1	Эр-Рияд	Побережье страны, к которой относится, омываются водами Красного моря.
2	Ташкент	Местное время опережает местное время Баку.
3	Мадрид	Расположен в умеренном климатическом поясе.
4	Анкара	Расположен на плоскогорье.
5	Пекин	В стране, к которой относится, объем ВВП меньше объема ВВП Испании.
6	Джакарта	Расположен на острове Суматра.

- А) 4, 5, 6 В) 1, 3, 6
 С) 2, 4, 5 D) 1, 2, 4
 Е) 3, 5, 6

25. На основе таблицы установите соответствие.

№	Географический объект	Дивергентная граница	Конвергентная граница
1	Остров Пасхи	✓	
2	Корейский полуостров		✓
3	Азорские острова	✓	
4	Молодые платформы		✓
5	Глубоководные океанические впадины	✓	
6	Котловина озера Танганьика	✓	

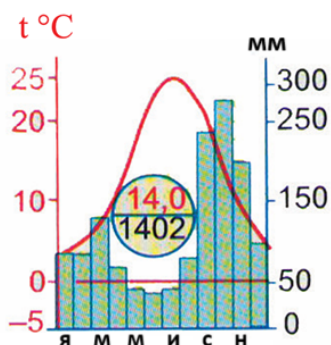
- А) 1, 3, 6 В) 2, 4, 5
 С) 1, 2, 4 D) 2, 3, 6
 Е) 3, 4, 6

26. Определите **неверные** утверждения.

	Моря	Особенности
1	Карибское	Встречаются острова кораллового происхождения.
2	Охотское	На территориях побережья имеются зоны как средней, так и новой складчатости.
3	Арафурское	Расположено в океаническом бассейне, отличном от бассейна Кораллового моря.
4	Средиземное	Расположено устье самой длинной реки континента Европа.
5	Балтийское	В одной части нарушается обычная смена ночи и дня.
6	Черное	Устье рек, берущих начало на Кавказских, Альпийских и Таврских горах.

- А) 4, 5, 6 В) 1, 2, 6
 С) 2, 3, 5 D) 1, 4, 5
 Е) 3, 5, 6

27. Определите верные утверждения относительно административного района, к которому относится климатическая диаграмма.



1. Граничит с зарубежной страной.
2. Имеет выход в Каспийское море.
3. Расположена самая южная крайняя точка нашей страны.
4. 22 декабря в полдень угол падения солнечных лучей составляет 26,5°.
5. Земледелие развивалось при условиях орошения.
6. В холодный период года количество рассеянной радиации больше.

- А) 2, 3, 6 В) 1, 3, 4
 С) 2, 4, 6 Д) 1, 4, 5
 Е) 2, 5, 6

28. Определите **неверные** утверждения.

	Языковые семьи	Особенности
1	Индо-европейская	Относится большая часть населения Кубы, Новой Зеландии и Финляндии.
2	Китайско-Тибетская	Относится только население Китая и его автономной территории Тибета.
3	Кавказская	Не относится все народы, проживающие на Больших Кавказских горах.
4	Уральская	К этой языковой семье относятся венгры.
5	Нигер-кордофанская	Большая часть народов, проживающих в странах, расположенных в бассейне

		реки Конго, принадлежат к этой языковой семье.
6	Алтайская	Все страны Центральной Азии относятся к этой языковой семье.

- А) 2, 4, 5 В) 1, 2, 6
 С) 1, 3, 6 Д) 3, 4, 5
 Е) 1, 2, 5

29. Определите **неверные** утверждения.

	Реки	Особенности
I	Кура	Протекает по территории Агстафинского, Газахского и Уджарского административных районов.
II	Араз	Исток и устье расположены на геосинклинали.
III	Самур	Является одним из основных источников по обеспечению города Баку водой.
IV	Тартар	Исток находится в Кяльбаджаре, а устье в Барде.

- А) Только IV В) I, II, III
 С) Только I Д) III и IV
 Е) I и III

30. Определите верное утверждение.

1. На Земле существует семь тепловых поясов и пять поясов освещенности.
2. На Земле имеется тринадцать климатических и семь постоянных поясов давления.
3. Влияние Фолклендского течения на образование пустыни Атакама значительно.
4. В горах Большого Кавказа встречаются лишь нерудные полезные ископаемые.
5. В нашей стране существует 15 экономических районов.
6. В нашей стране проживают народы, относящиеся к Кавказской, Индо-Европейской и Алтайской языковым семьям.

- А) 2, 4, 6 В) 2, 4, 5
 С) 1, 3, 4 Д) 1, 2, 6
 Е) 1, 3, 5