



AZƏRBAYCAN RESPUBLİKASI  
ELM VƏ TƏHSİL NAZİRLİYİ



MÜTDA  
MƏKTƏBƏQƏDƏR VƏ ÜMUMİ TƏHSİL  
ÜZRƏ DÖVLƏT AGENTLİYİ



RESPUBLİKA FƏNN  
OLİMPIADALARI

RAYON (ŞƏHƏR) MƏRHƏLƏSİ

Ad \_\_\_\_\_ Soyad \_\_\_\_\_

# 8-ci sinif COĞRAFIYA Rus bölməsi

- İmtahan müddəti — **150 dəqiqədir.**
- Hər səhv cavab öz dəyərinin **1/4-ni aparır.**
- Sualların hər biri **5 balla** qiymətləndirilir.
- Kitabçada **20 sual** mövcuddur.
- Nəzarətçilərə cavab kağızları təqdim olunur.
- Rayon (şəhər) mərhələsinin nəticələrini **03.02.2026**-cı il tarixindən etibarən **portal.edu.az** platformasında (QR kodu skan edərək) şəxsi kabinetinizdən və təhsil aldığınız ümumtəhsil müəssisəsindən öyrənə bilərsiniz.

Kitabçamda texniki qüsurlar (çap olunmamış, aydın olmayan səhifə, natamam suallar) olmadığını və məlumatların (sinif, fənn, bölmə) mənim məlumatlarıma uyğunluq təşkil etdiyini təsdiq edirəm.

İmza: \_\_\_\_\_

1. На основе таблицы определите соответствующие особенности.

№	Часовой пояс	Особенности
1	XXIV	Пересекается с 3 материками.
2	XII	Расположен только в Западном полушарии.
3	VI	Материки, с которым пересекаются, расположены в 3 полушариях
4	IX	Когда в Баку 22 марта время 21:00, в этом поясе уже 23 марта.
5	XX	Расположен в 4 полушариях
6	I	Кратчайшее расстояние между западной границей и Баку составляет 4717,5 км.

A) 1, 3, 5 B) 2, 4, 6 C) 1, 3, 4 D) 1, 2, 3 E) 4, 5, 6

2. Определите соответствие.

I — Умеренный пояс освещенности

II — Полярный пояс освещенности

III — Тропический пояс освещенности

a. В течение года тени от вертикальных объектов дважды бывают равны нулю.

b. Нарушается обычная смена дня и ночи.

c. Во всех частях разница между максимальным и минимальным углом падения солнечных лучей в полдень составляет  $47^\circ$ .

d. Расположен на территории трех материков.

e. На карте мира, составленной по конусной проекции, проходит линия с нулевым искажением.

A) I-a, b; II-c, d; III-e

B) I-a, e; II-b, c; III-d

C) I-b, e; II-c, d; III-a

D) I-c, e; II-a, b; III-d

E) I-c, e; II-b, d; III-a

3. 22 июня в полдень в двух пунктах, расположенных на одном меридиане, солнечные лучи падают под углом  $55^\circ$ . Определите, сколько сантиметров на карте с масштабом 1:14 000 000 составляет кратчайшее расстояние между этими пунктами.

A) 55,5 B) 22,5 C) 36,4 D) 48,6 E) 62,5

4. Определите правильные утверждения о пассатных ветрах.

A) Наблюдаются на всех материках.

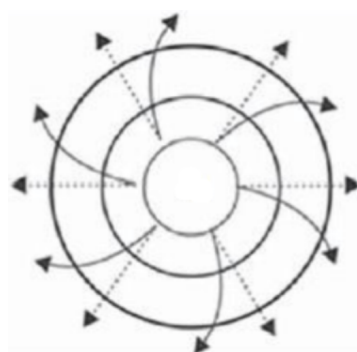
B) В Южном полушарии отклоняются вправо.

C) Меняют направление дважды в год.

D) Характерны для полуостровов Лабрадор и Сомали.

E) Дуют из зоны высокого давления тропических широт в зону низкого давления экваториальных широт.

5. Определите верные утверждения на основе атмосферного явления, показанного на схеме.



A) Характерно для Южного полушария.

B) Область низкого давления.

C) Приносит обильные осадки на территорию, к которой относится.

D) Область высокого давления.

E) Формируется только на территориях, где Солнце находится в зените.

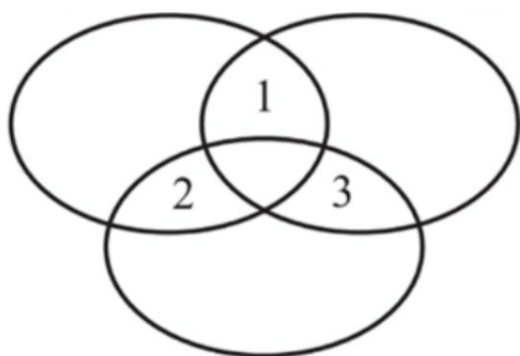
6. Характерно для зоны Куринской тектонической впадины:

1. Не встречается умеренно-тёплый климат.
2. Расположены устья рек Ганых и Габыры.
3. Абсолютная высота не превышает 200 метров.
4. Встречаются запасы нефти и глины.
5. Не расположены Шекинский и Гахский административные районы.
6. Встречаются растения, такие как полынь и кянгиз.

A) 1, 3, 5 B) 2, 4, 6 C) 3, 4, 6 D) 2, 3, 5 E) 1, 4, 6

7. На основе диаграммы Эйлера-Венна определите соответствие для материков.

Северная Америка Южная Америка



Африка

- a. Остров Святой Елены находится на дивергентной границе литосферных плит, к которым относится.
- b. Видна Полярная звезда (Полярис).
- c. В течение года Солнце бывает в зените в полдень.
- d. Расположен в трёх зонах освещенности.
- e. Определённая часть находится в умеренном климатическом поясе.

A) 1-e; 2-d; 3-a  
B) 1-b; 2-c; 3-a,d  
C) 1-e; 2-a,d; 3-b  
D) 1-a,c; 2-b, d; 3-e  
E) 1-c; 2-d; 3-a,b

8. Является членом организации ОЭС (ECO):

1. Иран
2. Грузия
3. Турция
4. Молдова
5. Пакистан
6. Украина

A) 3, 4, 5 B) 1, 5, 6 C) 1, 3, 5 D) 2, 3, 6 E) 1, 2, 4

9. На основе таблицы определите верные ряды.

S/S	Экономические районы	Характерные особенности
1	Губа-Хачмазский	В составе 9 административных районов.
2	Горно-Ширванский	Не граничит с зарубежными странами.
3	Гянджа-Дашкесанский	Имеются рудные полезные ископаемые.
4	Восточно-Зангезурский	Граничит только с одной зарубежной страной.
5	Центрально-Аранский	Встречается только климат полупустынь и сухих степей.
6	Нахчиванский	Встречается умеренно-теплый климат.

A) 2, 3, 6 B) 1, 3, 5 C) 2, 4, 5 D) 2, 3, 5 E) 1, 4, 6

10. На основе таблицы определите соответствие.

№	Страна	Характерный признак
1	Чили	Солнце бывает в зените.
2	Турция	Граничит с Сирией, Ливаном и Болгарией.
3	Казахстан	Расположен на двух континентах.
4	Малайзия	Берега омываются водами двух океанов.
5	Венгрия	Расположена на побережьях Адриатического моря.
6	Финляндия	Большинство населения говорит на индоевропейских языках.

A) 2, 3, 6 B) 2, 4, 5 C) 1, 2, 6 D) 1, 3, 5 E) 1, 3, 4

11. На основе таблицы определите верные ряды.

1. Озеро Байкал	2. Озеро Виктория
а. Расположено в бассейне Северного Ледовитого океана.	а. Расположено в трёх полушариях.
б. На материке, где расположено, нарушается обычная смена дня и ночи, а Солнце бывает в зените 30 сентября.	б. На материке, где он расположен, есть пункты, в которых в течение года в полдень длина тени от вертикального предмета равна нулю.
с. Страна, в которой находится, омывается как замерзающими, так и незамерзающими морями Северного Ледовитого океана.	с. Относится к бассейну Индийского океана.

- А) 1-а, с; 2-а, б  
 В) 1-а, б; 2-б, с  
 С) 1-а, б, с; 2-а, с  
 D) 1-б, с; 2-б, с  
 Е) 1-а, б, с; 2-а, б, с

12. Определите **неверные** утверждения.

- В настоящее время в нашей стране количество работающих в частных предприятиях больше, чем в государственных.
- В Бразилии, Мексике и Казахстане часто встречаются терриконы.
- В зоне тектонического поднятия Большого Кавказа нет месторождений рудных полезных ископаемых.
- В Талышских горах встречается климат нагорных тундр.
- В день зимнего солнцестояния на самой длинной параллели в полдень тени от вертикальных объектов отсутствуют.
- Чёрное, Мраморное и Балтийское моря по своему географическому положению считаются внутренними морями.

- А) 2, 4, 6 В) 1, 2, 6 С) 3, 4, 5 D) 1, 4, 5 Е) 1, 3, 5

13. Определите количество водяного пара (в граммах), которое конденсируется, если 1 м<sup>3</sup> воздуха с температурой +30°C и относительной влажностью 42% охладить до +10°C. (Учтите, что 1 м<sup>3</sup> воздуха при +10°C может содержать максимум 9 г, а при +30°C — 30 г водяного пара).

- А) 4, 2 В) 2, 5 С) 3, 6 D) 1, 8 Е) 6, 4

14. С какого острова путешественник, двигаясь только в западном направлении, пройдет кратчайшее расстояние, чтобы вернуться в исходный пункт?

- А) Калимантан  
 В) Исландия  
 С) Тайвань  
 D) Сахалин  
 Е) Кипр

15. Карта нашей страны, составленная в каком масштабе, займёт меньшую площадь на стене?

- А) 1: 4 000 000  
 В) 1: 9 000 000  
 С) 1: 3 00 000  
 D) 1: 5 500 000  
 Е) 1: 180 000

16. У подножия горы атмосферное давление составляет 680 мм рт. ст. Максимальная высота горы над уровнем моря — 3300 метров. Определите разницу температур между вершиной и подножием горы по шкале Фаренгейта. (Учтите, что на уровне моря давление нормальное)

- А) 56,4°F В) 35,8°F С) 69,3°F D) 48°F Е) 59°F

17. Для параллели с длиной окружности 30744 км характерные признаки:

1. Находится только в Северном полушарии.
  2. Пересекается материком, расположенным в двух полушариях.
  3. Разница между максимальным и минимальным углом падения солнечных лучей в полдень составляет  $48^\circ$ .
  4. Расположена во всех часовых поясах.
  5. Кратчайшее расстояние до полярного круга меньше, чем кратчайшее расстояние до экватора.
  6. На всех пересекаемых континентах Солнце бывает в зените.
- А) 1, 3, 5 В) 2, 3, 5 С) 1, 4, 6 Д) 2, 3, 6 Е) 2, 4, 5

18. На основе таблицы определите утверждения, которые **не соответствуют** рекам.

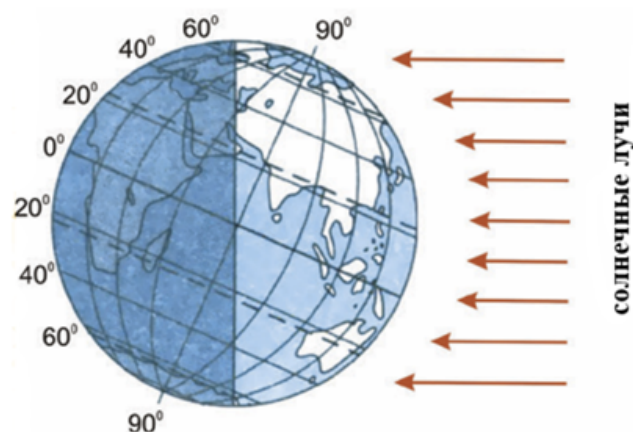
Кура	Араз
1. Протекает по территории 3 стран.	4. Протекает по территории Грузии.
2. Берет начало с гор Гызылгядик.	5. Берет начало с хребта Бингёль.
3. Протекает по территории Гейчайского административного района.	6. Впадает напрямую в Каспийское море.

- А) 1, 5, 6 В) 2, 4, 6 С) 1, 3, 5 Д) 3, 4, 6 Е) 2, 3, 4

19. Определите верные утверждения.

1. В США встречается субтропический климатический пояс.
  2. Берега Бразилии омываются водами одного океана, она расположена в трех полушариях.
  3. Все административные районы, расположенные по обе стороны реки Кура, находятся ниже уровня океана.
  4. Бельгия и Швеция имеют монархическую форму правления.
  5. Острова Галапагос расположены на конвергентной границе литосферных плит.
  6. Количество воды, испаряющейся с поверхности океанов, намного меньше количества выпадающих осадков.
- А) 2, 4, 6 В) 1, 3, 4 С) 1, 2, 4 Д) 1, 3, 5 Е) 2, 5, 6

20. Определите признаки, соответствующие положению Земли на схеме.



1. Продолжительность дня на Аппенинском полуострове намного меньше, чем на Скандинавском полуострове.
  2. На  $68,5^\circ$  северной широты в полдень угол падения солнечных лучей составляет  $45^\circ$ .
  3. Только в пунктах, расположенных севернее Северного тропика, продолжительность дня составляет более 12 часов.
  4. Во всех пунктах тропического пояса освещенности длина тени от вертикального столба меньше его высоты.
  5. И на Северном и на Южном полярных кругах нарушена обычная смена дня и ночи.
  6. На самой длинной параллели в полдень угол падения солнечных лучей составляет  $60^\circ$ .
- А) 1, 2, 5 В) 2, 4, 6 С) 1, 3, 5 Д) 1, 4, 6 Е) 3, 4, 5

